



ちえ D-1-6

なまえ

がつ

にち



1 おてほんのようにかたちをすうじにかえましょう。

おてほん

1	2	3	4	5	6

(1)

(2)






2 したのもんだいをかくして、うえの□のなかのえを、30びょうかんみておぼえましょう。おぼえたら、うえの□をかくして、したのもんだいにこたえましょう。




おうちの方へ

30秒間を計った後、上の□を隠してから問題を行ってください。覚えられないようであれば、再度時間をとってください。



もんだい

うえの□にあったものに○をつけましょう。





もじ D-5-21

なまえ

がつ

にち



1

ぶんをよんで、といにこたえましょう。

あるむらにおばあさんがねこといっしょにすんでいました。そこへ、にわとりが わ、 わ、 わ、とやってきました。

「にわとりがきて、これにぎやかになった。おまえもにわとりとなかよくしなさいね。」

「はい、なかよくします。」

とねこはいいました。



(1) おばあさんは、どこに、だれと、すんでいましたか。

()

すんでいた。

() に、 ()

() と

(2) かんじになおしましょう。



わ、



わ、



ば

(3) おまえというのはだれのことですか。

()

(4) つぎのなかで、「いちわにわ…」とかぞえるものに○をつけましょう。

さかな　くるま　いぬ　はと　ふね

()



かず D-10-1

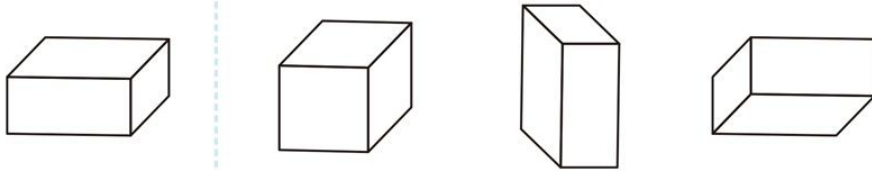
名まえ

月 日

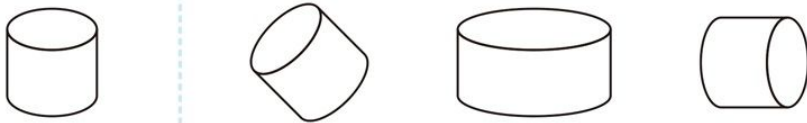


1 いちばん ^{ひだり} 左にあるかたちをいろいろなおきにかえました。1つだけかたちのちがうものがあります。かたちのちがうものに×をつけましょう。

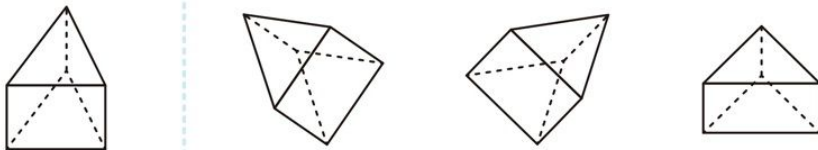
(1)



(2)



(3)



2 $30+20$ のけいさんをしてみましょう。



10のふくろがいくつになるかをかんがえよう。



10のふくろは3と2で 5つ → こたえ 50

けいさんをしましょう。

(1) $10+30=$

(2) $20+20=$

(3) $10+40=$

(4) $20+30=$